

Nom :

Prénom :

Classe :

Découverte du Centre Azincourt 1415.

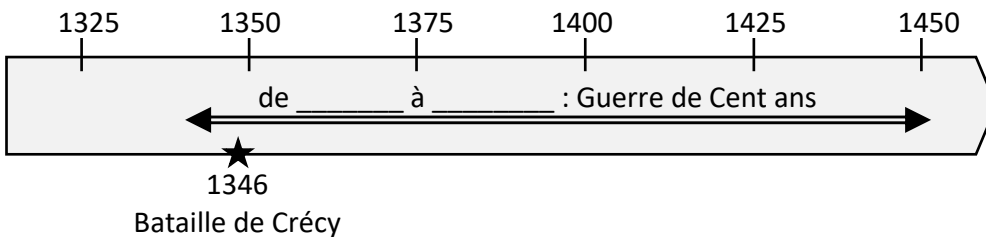
Salle 1 – Le mémorial.

a. Décris les murs. Explique ensuite ce qu'ils représentent.

a. A qui appartiennent les 534 noms inscrits dans cette première salle ?

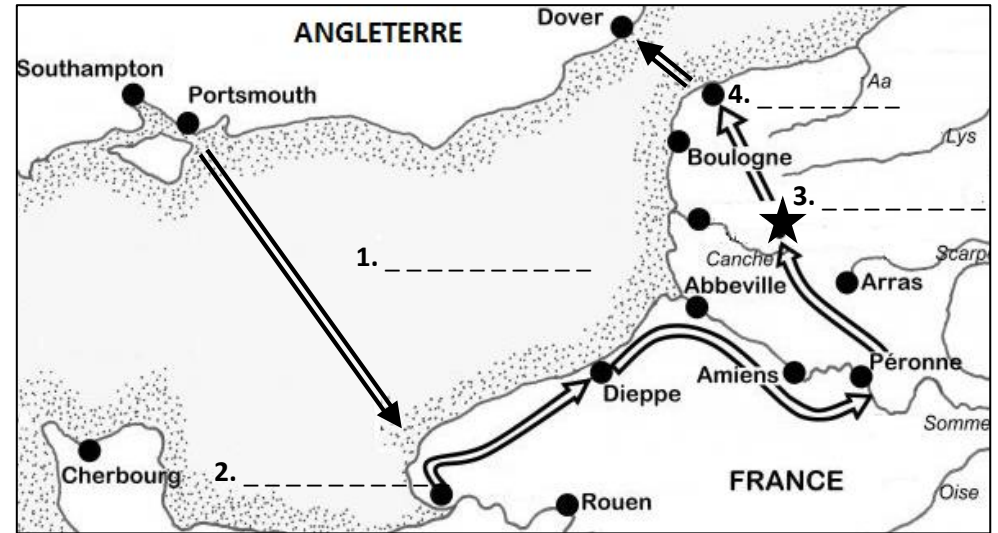
Salle 2 – Le contexte historique : le raid de 1415.

- a. Sur la double flèche, indique les dates de la « Guerre de Cent ans »
 b. Sous la frise, représente la bataille d'Azincourt et indique sa date.



c. Complète la carte ci-contre représentant le raid du roi Henry V en 1415 avec

1. La mer qu'il traverse avec une flotte de 700 navires.
2. La ville qu'il prend aux Français après un long siège.
3. Le village à côté duquel les Français tentent de couper la route aux Anglais.
4. La ville anglaise d'où Henry V rembarque pour l'Angleterre.



Salle 2 – Vie des soldats.

Complète le texte à trous avec les informations recueillies.

« Au Moyen Âge en Europe, la religion majoritaire est le _____.
 L'alimentation de base se compose principalement de _____,
 et quelques fois de _____ ou de _____. Comme
 boisson, la plus consommée est le _____. Lorsqu'ils se déplacent, les
 troupes logent dans des granges ou dans des _____ qu'ils transportent. »

Salle 3 – Vie quotidienne à Azincourt et ses alentours en 1415.

Entoure la vignette représentant une famille paysanne au XV^e (15^e) siècle.

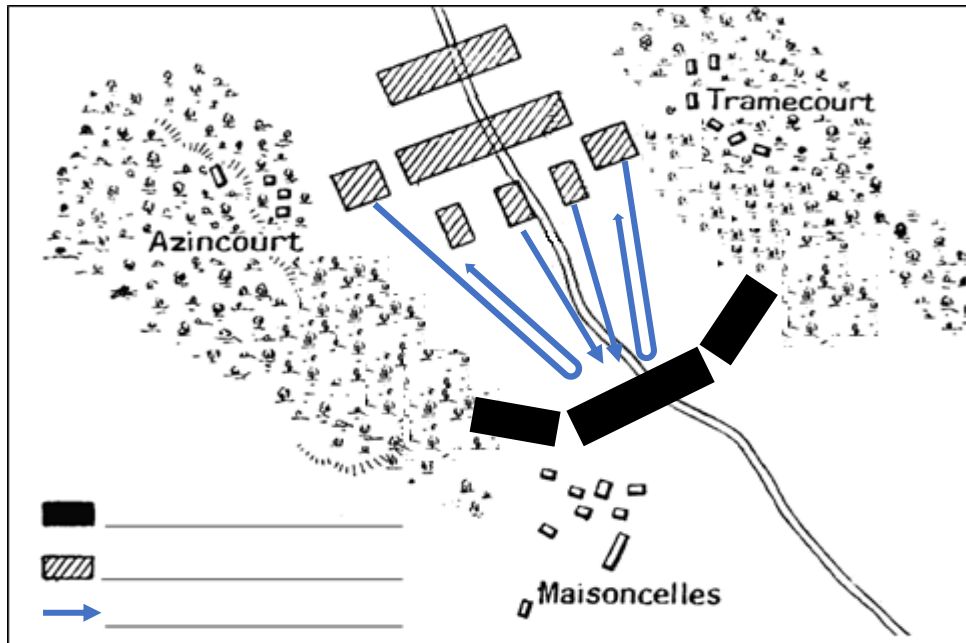


Salle 4 – Projection : la bataille d'Azincourt.

a. Complète le tableau pour préciser le nombre estimé de combattants :

Français	Anglais

b. Complète la légende pour expliquer le déroulement de la bataille :



c. Indique si ces affirmations sont vraies ou fausses :

- Le terrain boueux est défavorable aux chevaliers français. vrai faux
- Les Français sont organisés et disciplinés. vrai faux
- Le roi anglais Henry V a adopté une bonne stratégie. vrai faux
- Les archers anglais ont joué un grand rôle dans la bataille. vrai faux
- Le seigneur d'Azincourt a pillé le camp du roi anglais. vrai faux
- Le roi anglais Henry V a fait exécuter nombre de prisonniers. vrai faux
- Les Français ont remporté la bataille d'Azincourt. vrai faux

Salle 5 – Armement et bilan de la bataille.

a. Relie chaque élément à la personne concernée :



- un noble chevalier
- un archer anglais
- vêtu d'un haubergeon
- vêtu d'une armure
- a un heaume à bassinot
- a un casque simple
- peut utiliser son bouclier
- a une épée
- a une dague à la ceinture



b. Pour chaque question, coche la bonne réponse :

- Quels est le poids moyen d'une armure de chevalier au XV^e (15^e) siècle ?
 20 à 25 kilogrammes 25 à 30 kilogrammes 30 à 35 kilogrammes
- Combien un archer anglais bien entraîné tire-t-il de flèches par minute ?
 2 à 6 flèches 6 à 10 flèches 10 à 14 flèches
- A environ quelle distance un archer peut-il envoyer ses flèches ?
 50 mètres 100 mètres 200 mètres
- Quelles armes font leur apparition sur le champ de bataille d'Azincourt ?
 des armes à feu des armes de jet des armes d'hast

c. Précise le nombre estimé de combattants morts :

Français	Anglais